


100

1	2	3	4	5	6	7	8	9	10
11	12	13	14	15	16	17	18	19	20
21	22	23	24	25	26	27	28	29	30
31	32	33	34	35	36	37	38	39	40
41	42	43	44	45	46	47	48	49	50
51	52	53	54	55	56	57	58	59	60
61	62	63	64	65	66	67	68	69	70
71	72	73	74	75	76	77	78	79	80
81	82	83	84	85	86	87	88	89	90
91	92	93	94	95	96	97	98	99	100

BẢNG CÁC SỐ TỪ 1 ĐẾN 100


Tiết 1






KHỞ ĐỘNG TIẾT HỌC





CHÚNG TA BẮT ĐẦU VÀO BÀI HỌC





TRÒ CHƠI ĐỐ BẠN



Đố bạn đọc
được các số trong
phạm vi 100 mà có
số đơn vị là 8



18, 48, 68. Còn số
nào không nhỉ?







Các bạn ơi, có cách nào để trả lời đúng và đủ, không bị thiếu sót không nhỉ?


Bảng các số từ 1 đến 100 sẽ giúp bạn trả lời được câu hỏi đó và biết thêm nhiều điều thú vị

Chúng mình cùng làm bảng các số từ 1 đến 100 nhé!




- Bảng các số từ 1 đến 100 đảm bảo các yêu cầu sau:**
- + Viết đúng vị trí các số từ 1 đến 100.
 - + Trang trí sáng tạo, đẹp mắt.
 - + Viết, đánh dấu và xoá được.





PHIẾU HỌC TẬP SỐ 1





BẢNG CÁC SỐ TỪ 1 ĐẾN 100



Tìm các số còn thiếu trong bảng dưới đây

1	2	3	?	5	6	7	8	9	10
11	12	?	14	15	16	?	18	19	?
21	?	23	24	25	26	27	28	29	30
31	32	33	34	?	?	37	38	39	40
41	42	43	44	45	46	47	48	?	50
51	?	53	54	?	56	57	58	59	?
61	62	?	64	65	66	67	?	69	70
?	72	73	74	75	76	77	78	79	?
81	82	83	84	85	?	87	88	89	90
91	92	93	?	95	96	97	98	99	?





BẢNG CÁC SỐ TỪ 1 ĐẾN 100

1	2	3	4	5	6	7	8	9	10
11	12	13	14	15	16	17	18	19	20
21	22	23	24	25	26	27	28	29	30
31	32	33	34	35	36	37	38	39	40
41	42	43	44	45	46	47	48	49	50
51	52	53	54	55	56	57	58	59	60
61	62	63	64	65	66	67	68	69	70
71	72	73	74	75	76	77	78	79	80
81	82	83	84	85	86	87	88	89	90
91	92	93	94	95	96	97	98	99	100

Em hãy nhận xét các số theo từng hàng?

Các số trong một hàng có hàng chục bằng nhau, hàng đơn vị tăng dần

Các số cuối cùng trong một hàng là các số tròn chục






BẢNG CÁC SỐ TỪ 1 ĐẾN 100

Em hãy nhận xét các số theo từng cột?

Các số trong một cột có hàng chục tăng dần, hàng đơn vị bằng nhau

Cột cuối cùng là các số tròn chục

1	2	3	4	5	6	7	8	9	10
11	12	13	14	15	16	17	18	19	20
21	22	23	24	25	26	27	28	29	30
31	32	33	34	35	36	37	38	39	40
41	42	43	44	45	46	47	48	49	50
51	52	53	54	55	56	57	58	59	60
61	62	63	64	65	66	67	68	69	70
71	72	73	74	75	76	77	78	79	80
81	82	83	84	85	86	87	88	89	90
91	92	93	94	95	96	97	98	99	100



PHIẾU HỌC TẬP SỐ 2



1. Bảng số từ 1 đến 100 có**10**..... hàng, mỗi hàng có**10**... số.

2. Bảng số từ 1 đến 100 có**10**..... cột, mỗi cột có**10**... số.

3. Phát biểu nào sau đây đúng:


Trong bảng số từ 1 đến 100:

A. số lớn nhất là 99

B. số bé nhất là số 1


C. số bé nhất có hai chữ số là số 11







Chuẩn bị cho giờ học sau


Chuẩn bị dụng cụ và vật liệu cho buổi học sau:
Giấy ô li, giấy màu, kéo, keo dán, bút chì, bút màu, bì ni-lông





TẠM BIỆT CÁC EM






BÀI 10

BẢNG CÁC SỐ TỪ 1 ĐẾN 100




1	2	3	4	5	6	7	8	9	10
11	12	13	14	15	16	17	18	19	20
21	22	23	24	25	26	27	28	29	30
31	32	33	34	35	36	37	38	39	40
41	42	43	44	45	46	47	48	49	50
51	52	53	54	55	56	57	58	59	60
61	62	63	64	65	66	67	68	69	70
71	72	73	74	75	76	77	78	79	80
81	82	83	84	85	86	87	88	89	90
91	92	93	94	95	96	97	98	99	100

Tiết 2



1	2	3	4	5	6	7	8	9	10
11	12	13	14	15	16	17	18	19	20
21	22	23	23	25	26	27	28	29	30
31	32	33	34	35	36	37	38	39	40
41	42	43	44	45	46	47	48	49	50
51	52	53	54	55	56	57	58	59	60
61	62	63	64	65	66	67	68	69	70
71	72	73	74	75	76	77	78	79	80
81	82	83	84	85	86	87	88	89	90
91	92	93	94	95	96	97	98	99	100





ĐỀ XUẤT Ý TƯỞNG VÀ CÁCH LÀM BẢNG CÁC SỐ TỪ 1 ĐẾN 100



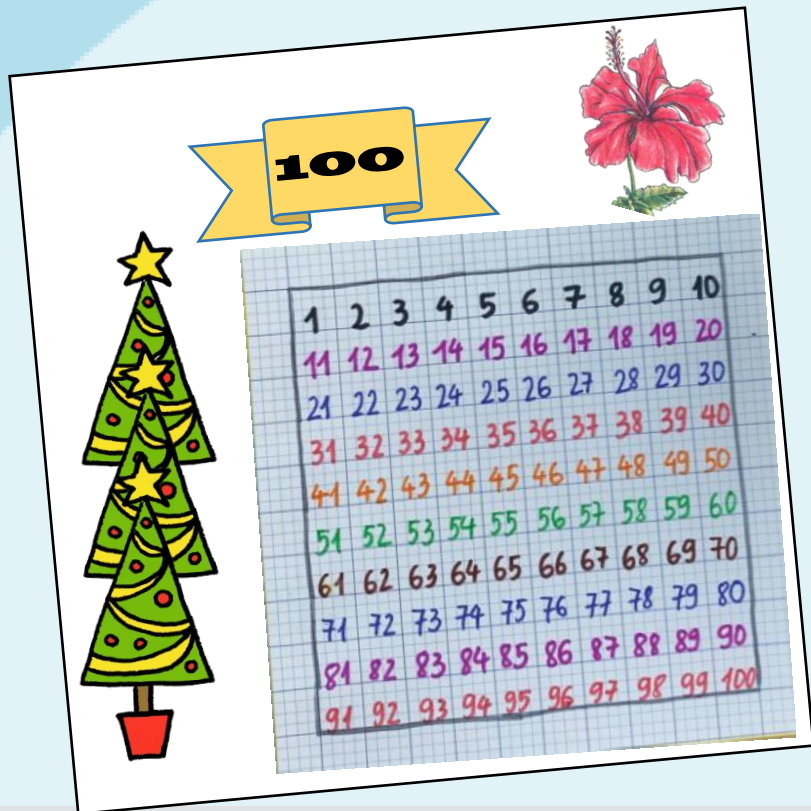



TIÊU CHÍ SẢN PHẨM

✿ Viết đúng vị trí các số từ 1 đến 100

✿ Trang trí sáng tạo, đẹp mắt

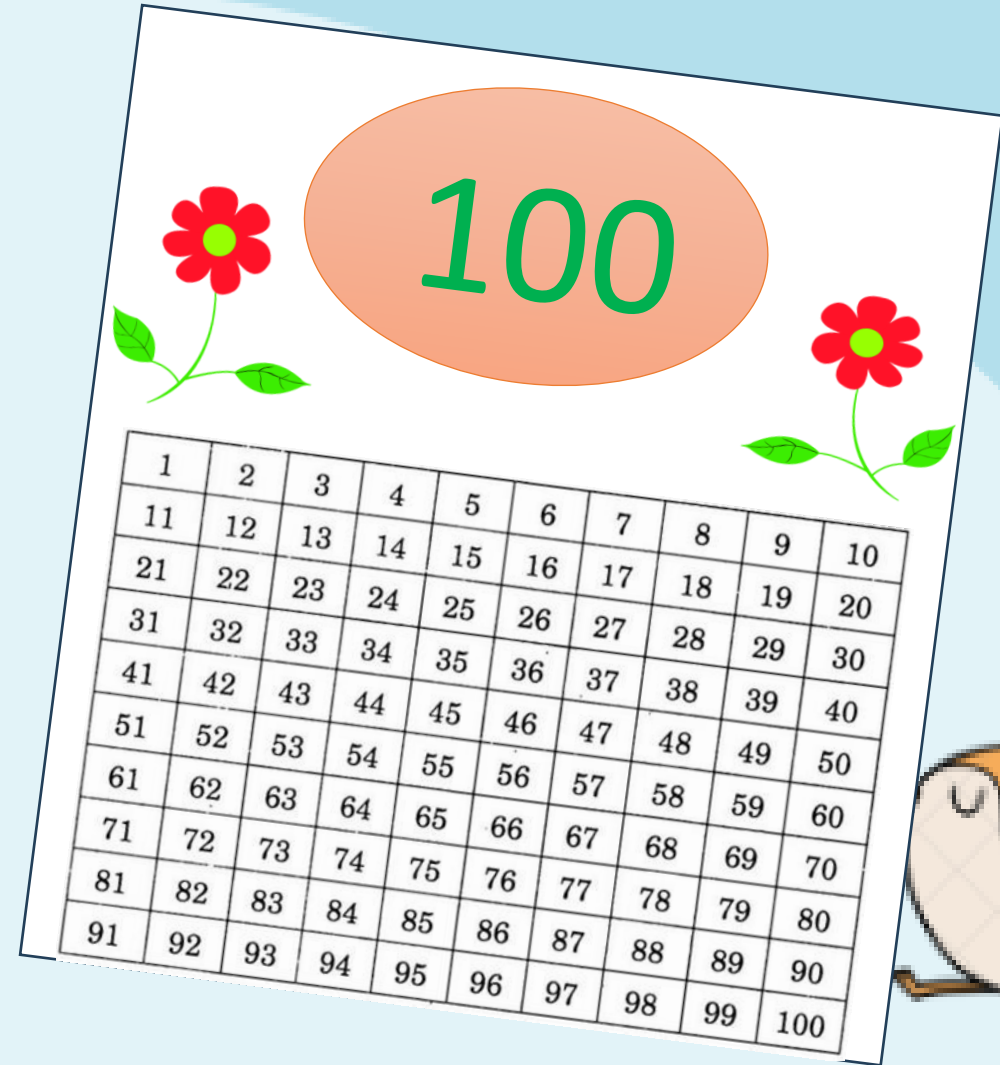

✿ Viết, đánh dấu và xoá được







ĐỀ XUẤT Ý TƯỞNG VÀ CÁCH LÀM BẢNG CÁC SỐ TỪ 1 ĐẾN 100

THẢO LUẬN VÀ CHIA SẺ Ý TƯỞNG





LỰA CHỌN Ý TƯỞNG LÀM BẢNG CÁC SỐ TỪ 1 ĐẾN 100



100


1	2	3	4	5	6	7	8	9	10
11	12	13	14	15	16	17	18	19	20
21	22	23	24	25	26	27	28	29	30
31	32	33	34	35	36	37	38	39	40
41	42	43	44	45	46	47	48	49	50
51	52	53	54	55	56	57	58	59	60
61	62	63	64	65	66	67	68	69	70
71	72	73	74	75	76	77	78	79	80
81	82	83	84	85	86	87	88	89	90
91	92	93	94	95	96	97	98	99	100

1	2	3	4	5	6	7	8	9	10
11	12	13	14	15	16	17	18	19	20
21	22	23	24	25	26	27	28	29	30
31	32	33	34	35	36	37	38	39	40
41	42	43	44	45	46	47	48	49	50
51	52	53	54	55	56	57	58	59	60
61	62	63	64	65	66	67	68	69	70
71	72	73	74	75	76	77	78	79	80
81	82	83	84	85	86	87	88	89	90
91	92	93	94	95	96	97	98	99	100




100





PHIẾU HỌC TẬP SỐ 3



1. Để làm bảng các số từ 1 đến 100 em cần:

a. Vật liệu sử dụng: **Giấy màu, giấy ô li, bút dạ, bút màu, keo dán, bìa ni-lông**

b. Em tạo bảng số như thế nào? **Kẻ bảng 10 hàng, 10 cột trên giấy ô li, điền các số từ 1 đến 100 vào các ô**

c. Em sử dụng cách gì để trang trí? (xé dán, vẽ hay tô màu)

Vẽ hoa, cây, con vật, tô màu để trang trí



2. Em hãy mô tả các bước làm bảng các số từ 1 đến 100

Tạo bảng số từ 1 đến 100, trang trí bảng, cho bảng vào bìa ni-lông


3. Em hãy kể tên công dụng bảng các số từ 1 đến 100

Tìm nhanh các số có cùng hàng chục, hàng đơn vị


Tìm các số tròn chục, các số có chữ số giống nhau

So sánh số, tìm số liền trước, số liền sau,







LÀM BẢNG CÁC SỐ TỪ 1 ĐẾN 100




Lựa chọn dụng cụ và vật liệu
Giấy A4, bút màu, thước kẻ






LÀM BẢNG CÁC SỐ TỪ 1 ĐẾN 100



Làm bảng các số từ 1 đến 100 theo cách của em hoặc nhóm em

1	2	3	4	5	6	7	8	9	10
11	12	13	14	15	16	17	18	19	20
21	22	23	24	25	26	27	28	29	30
31	32	33	34	35	36	37	38	39	40
41	42	43	44	45	46	47	48	49	50
51	52	53	54	55	56	57	58	59	60
61	62	63	64	65	66	67	68	69	70
71	72	73	74	75	76	77	78	79	80
81	82	83	84	85	86	87	88	89	90
91	92	93	94	95	96	97	98	99	100







LÀM BẢNG CÁC SỐ TỪ 1 ĐẾN 100



1

Tạo bảng có 10 hàng và 10 cột







LÀM BẢNG CÁC SỐ TỪ 1 ĐẾN 100



2

Ghi số từ 1 đến 100 vào bảng







LÀM BẢNG CÁC SỐ TỪ 1 ĐẾN 100




3

Trang trí







LÀM BẢNG CÁC SỐ TỪ 1 ĐẾN 100



4

Cho bảng vào bìa ni-lông





KIỂM TRA VÀ ĐIỀU CHỈNH



Sản phẩm


1	2	3	4	5	6	7	8	9	10
11	12	13	14	15	16	17	18	19	20
21	22	23	24	25	26	27	28	29	30
31	32	33	34	35	36	37	38	39	40
41	42	43	44	45	46	47	48	49	50
51	52	53	54	55	56	57	58	59	60
61	62	63	64	65	66	67	68	69	70
71	72	73	74	75	76	77	78	79	80
81	82	83	84	85	86	87	88	89	90
91	92	93	94	95	96	97	98	99	100

❖ Viết đúng vị trí các số từ 1 đến 100.


❖ Trang trí sáng tạo, đẹp mắt.

❖ Viết, đánh dấu và xoá được.





PHIẾU HỌC TẬP SỐ 4



Sử dụng bảng các số từ 1 đến 100 vừa làm, trả lời các câu hỏi sau:

a. Tôi là số lớn nhất có hai chữ số. Đố bạn tôi là số mấy?

.....

b. Chúng tôi là những số có số chục là 4. Đố bạn tìm được chúng tôi.

.....


c. Chúng tôi là những số có số đơn vị là 9. Đố bạn tìm được chúng tôi.

.....

d. Đố bạn số 69 và số 72, số nào lớn hơn?

.....





TRÒ CHƠI "TÌM SỐ"




Sử dụng bảng các số từ 1 đến 100 vừa làm, trả lời các câu hỏi sau:

1	2	3	4	5	6	7	8	9	10
11	12	13	14	15	16	17	18	19	20
21	22	23	24	25	26	27	28	29	30
31	32	33	34	35	36	37	38	39	40
41	42	43	44	45	46	47	48	49	50
51	52	53	54	55	56	57	58	59	60
61	62	63	64	65	66	67	68	69	70
71	72	73	74	75	76	77	78	79	80
81	82	83	84	85	86	87	88	89	90
91	92	93	94	95	96	97	98	99	100


Tôi là số lớn nhất có hai chữ số.
Đố bạn tôi là số mấy?

99





TRÒ CHƠI “TÌM SỐ”




Sử dụng bảng các số từ 1 đến 100 vừa làm, trả lời các câu hỏi sau:

1	2	3	4	5	6	7	8	9	10
11	12	13	14	15	16	17	18	19	20
21	22	23	24	25	26	27	28	29	30
31	32	33	34	35	36	37	38	39	40
41	42	43	44	45	46	47	48	49	50
51	52	53	54	55	56	57	58	59	60
61	62	63	64	65	66	67	68	69	70
71	72	73	74	75	76	77	78	79	80
81	82	83	84	85	86	87	88	89	90
91	92	93	94	95	96	97	98	99	100

Chúng tôi là những số có số chục là 4.
Đố bạn tìm được chúng tôi.


**40, 41, 42, 43, 44,
45, 46, 47, 48, 49**





TRÒ CHƠI "TÌM SỐ"

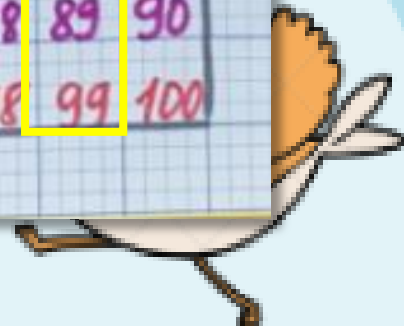
Sử dụng bảng các số từ 1 đến 100 vừa làm, trả lời các câu hỏi sau:




Chúng tôi là những số có số đơn vị là 9.
Đố bạn tìm được chúng tôi.

**9, 19, 29, 39, 49,
59, 69, 79, 89, 99**

1	2	3	4	5	6	7	8	9	10
11	12	13	14	15	16	17	18	19	20
21	22	23	24	25	26	27	28	29	30
31	32	33	34	35	36	37	38	39	40
41	42	43	44	45	46	47	48	49	50
51	52	53	54	55	56	57	58	59	60
61	62	63	64	65	66	67	68	69	70
71	72	73	74	75	76	77	78	79	80
81	82	83	84	85	86	87	88	89	90
91	92	93	94	95	96	97	98	99	100






TRÒ CHƠI "TÌM SỐ"

Sử dụng bảng các số từ 1 đến 100 vừa làm, trả lời các câu hỏi sau:


Đố bạn số 69 và số 72, số nào lớn hơn?

$$69 < 72$$

1	2	3	4	5	6	7	8	9	10
11	12	13	14	15	16	17	18	19	20
21	22	23	24	25	26	27	28	29	30
31	32	33	34	35	36	37	38	39	40
41	42	43	44	45	46	47	48	49	50
51	52	53	54	55	56	57	58	59	60
61	62	63	64	65	66	67	68	69	70
71	72	73	74	75	76	77	78	79	80
81	82	83	84	85	86	87	88	89	90
91	92	93	94	95	96	97	98	99	100



ĐÁNH GIÁ SẢN PHẨM



Thực hiện đánh giá bằng hình dán

Tiêu chí	Hoàn thành tốt	Hoàn thành	Cần cố gắng
★ Viết đúng vị trí các số từ 1 đến 100.			
★ Trang trí sáng tạo, đẹp mắt.			
★ Viết, đánh dấu và xoá được.			



TẠM BIỆT CÁC EM

